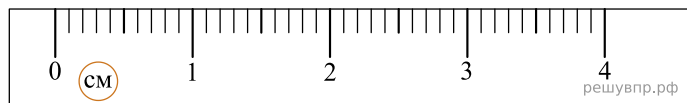
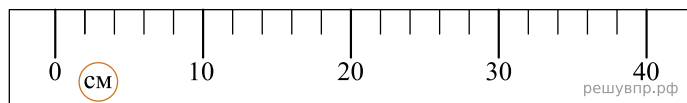


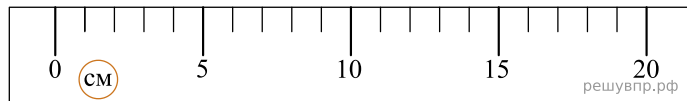
Алле нужно отрезать от мотка нитку длиной 24 см. На рисунке изображены три линейки. Чему равна цена деления той линейки, которая в наибольшей степени подойдёт Алле?



1



2



3