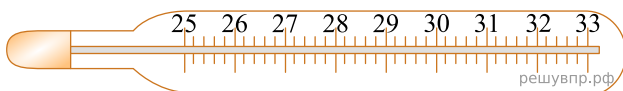
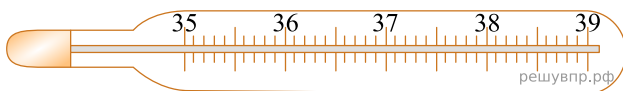
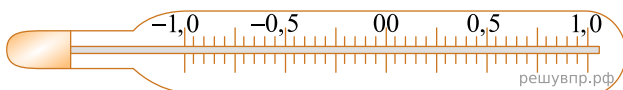


ВПР 2024 год по физике 7 класс. Вариант 8.

При выполнении заданий с кратким ответом впишите в поле для ответа цифру, которая соответствует номеру правильного ответа, или число, слово, последовательность букв (слов) или цифр. Ответ следует записывать без пробелов и каких-либо дополнительных символов. Дробную часть отделяйте от целой десятичной запятой. Единицы измерений писать не нужно. Ответ с погрешностью вида $(1,4 \pm 0,2)$ Н записывайте следующим образом: 1,40,2.

Если вариант задан учителем, вы можете вписать или загрузить в систему ответы к заданиям с развернутым ответом. Учитель увидит результаты выполнения заданий с кратким ответом и сможет оценить загруженные ответы к заданиям с развернутым ответом. Выставленные учителем баллы отобразятся в вашей статистике.

1. Температура тела здорового человека равна $+36,6\text{ }^\circ\text{C}$ — такую температуру называют нормальной. На рисунке изображены три термометра. Чему равна цена деления того термометра, который подойдёт для измерения температуры тела с необходимой точностью? *Ответ запишите в градусах Цельсия.*

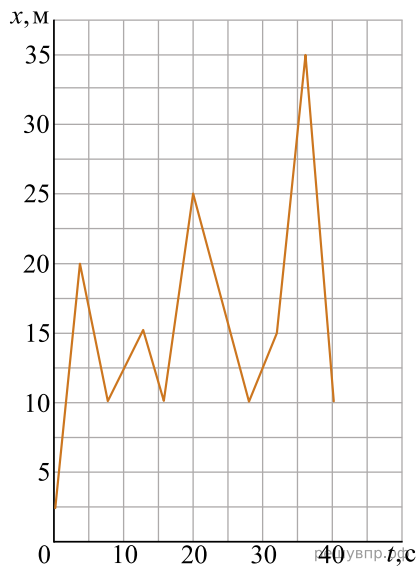


2. Ранним утром можно заметить, что трава на лугу мокрая, даже если ночью не было дождя. Водяной пар, содержащийся в воздухе, ночью выпадает на траву в виде росы. Как при этом изменяются расстояния между молекулами воды по сравнению с расстояниями между молекулами воды в паре? Изменяется ли при конденсации пара внутреннее строение молекул воды? Объясните свой ответ.

3. Алеша посмотрел на этикетку, наклеенную на бутылку с подсолнечным маслом, и ему стало интересно, каково значение плотности этого масла. Найдите плотность масла, пользуясь данными с этикетки. *Ответ запишите в килограммах на метр кубический.*



4. Коля гуляет с собакой, которая бежит по прямой дорожке в парке. Пользуясь графиком зависимости координаты собаки от времени, определите её координату через 40 секунд. Ответ дайте в метрах.



5. Илья стало интересно, чему примерно равен объём картофелины среднего размера. Он попросил у учителя физики 10 цилиндров объёмом 40 мл каждый и положил их в кастрюлю, после чего налил туда воду почти доверху. Затем Илья вынул из кастрюли все цилиндры и начал класть в неё картофелины. Оказалось, что после погружения восьми картофелин уровень воды в кастрюле вернулся к уровню, который был до вынимания цилиндров. Оцените объём одной картофелины, считая, что все они были примерно одинаковыми. Ответ дайте в миллилитрах.

6. Саша и Рома плыли по реке на байдарке. Когда они гребли, то проходили за полчаса вниз по течению 4,5 км, а когда уставали и не гребли — то течение сносило их за то же время на 2,5 км. С какой скоростью плыла бы байдарка, если бы ребята гребли, путешествуя по озеру?


7. Группе туристов нужно было пройти за день по просёлочной дороге 18 км. Они шли без остановок, поскольку опасались, что опоздают на поезд. Один из туристов, глядя на километровые столбы у дороги и на свои часы, записывал в блокнот, какое расстояние прошла группа, и сколько времени прошло с момента начала пути.

Пройденное расстояние, км	Время движения, мин.
3	25
6	60
9	90
12	110
15	140
18	160

Изучите записи и определите, было движение группы равномерным или нет? Ответ кратко поясните.

8.

Ходить по рыхлому снегу неудобно, так как ноги всё время проваливаются в него. Если такая прогулка всё же необходима, то используют снегоступы. Какой должна быть минимальная площадь одного снегоступа для того, чтобы человек массой 45 кг проваливался в снег не более чем на 5 см? На рыхлом снегу это условие соблюдается при давлении не более 15 кПа. Учтите, что когда человек делает шаг при ходьбе, то в какие-то промежутки времени он опирается только на одну ногу. *Ответ запишите в м².*

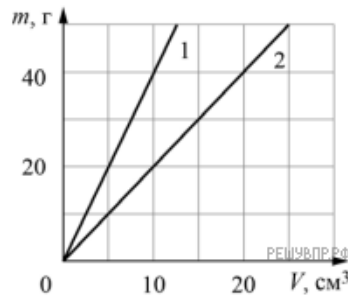
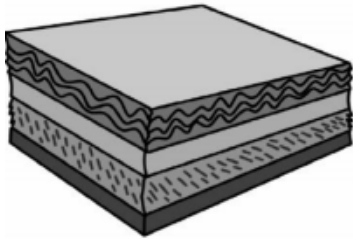


решувпр.рф

9. Композитный материал — это неоднородный сплошной материал, состоящий из двух или более компонентов, свойства которых сильно различаются. Первое использование композитного материала относится примерно к 1500 году до нашей эры, когда в Египте и в Месопотамии для постройки зданий начали использовать перемешанные глину с соломой.

На рисунке показаны графики зависимости массы от объёма для двух компонентов композитного материала. В некотором образце этого композитного материала объём первого компонента равен 30 см³, а объём второго компонента — 20 см³.

- 1) Определите массу первого компонента в образце композитного материала.
- 2) Определите среднюю плотность образца композитного материала, если объём образца равен сумме объёмов компонентов.

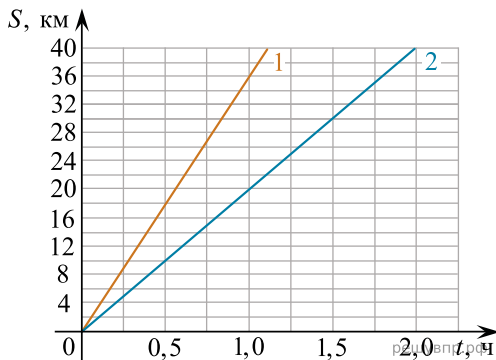


Ответ: 1) г; 2) г/см³.

10. На рисунке изображены графики зависимостей пути, пройденного грузовым теплоходом вдоль берега, от времени при движении по течению реки и против её течения.

- 1) Определите скорость теплохода при движении по течению реки.
- 2) Определите скорость теплохода при движении против течения реки.
- 3) Какой путь сможет пройти этот теплоход за 30 мин при движении по озеру?

Ответы на вопросы обоснуйте соответствующими рассуждениями или решением задачи.



11. Существуют различные шкалы для измерения расстояний. Так, метрическая шкала распространена в Европе и Азии. Другая шкала, которая в настоящее время используется в основном в Северной Америке и Англии — это дюймовая шкала.

Пользуясь изображением линейки с двумя шкалами (метрической и дюймовой), оцените:

- 1) толщину книги в дюймах;
- 2) длину диагонали экрана планшета в сантиметрах, если известно, что она равна 12,5" (дюйма);
- 3) сколько цветных точек печатает фотопринтер на 1 см² бумаги, если при печати фотографии он печатает 1200 точек на каждый квадратный дюйм изображения.

